

اليوم /  
التاريخ /  
اسم الطالبة /

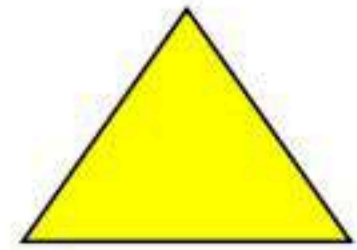

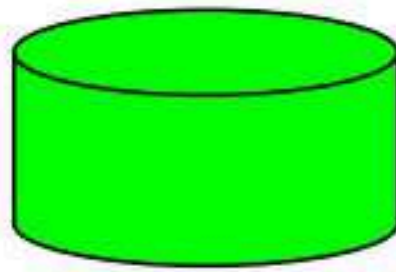

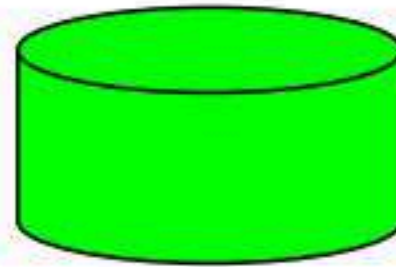
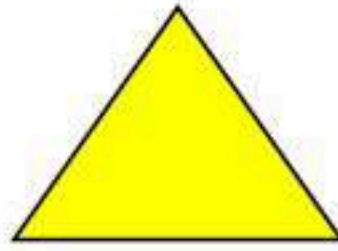


المملكة العربية السعودية

وزارة التربية ( ٢٨٠ )  
الإدارة العامة للتعليم بجدة  
مكتب تعليم خليص ( بنات )  
شعبة الصفوف الأولية

اختبار تشخيصي لمادة الرياضيات الصف الأول الابتدائي الفصل الدراسي الأول


**س ١ : صغيرتي صلي الأشكال المتطابقة بعضها ببعض:**



**س ٢ : اختاري العدد المناسب لكل مجموعة معطاة :**



( ١ - ٤ - ٥ )



( ٦ - ٩ - ٣ )

( ٤ - ٨ - ٢ )



**س ٢ : صغيرتي باناملك الجميلة لوني ٣ بالونات :**

