

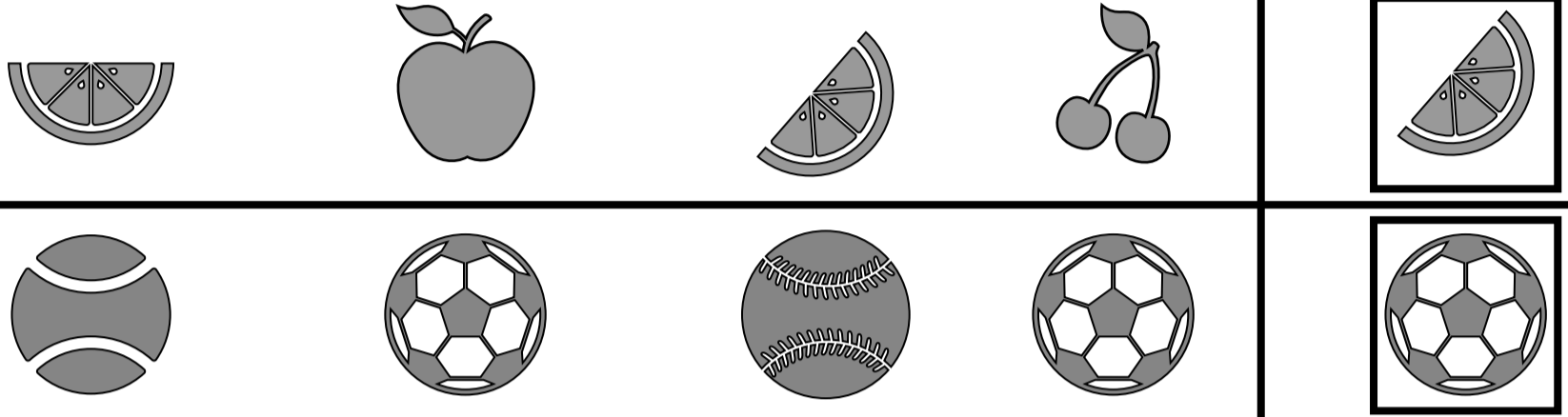
اختبار: مادة الرياضيات
فصل: المقارنة والتصنيف
للمستوى: الأول ابتدائي
لعام ١٤٤٤

المملكة العربية السعودية
وزارة التعليم
إدارة التعليم بمحافظة
مدرسة.....

الصف: أولى /

الإسم:


س١- أحوط العناصر المماثلة للشكل الموجود داخل الإطار:



س٢- أحوط الشكل الذي يشترك مع الشكل  في أكثر من خاصية:



س٣- أصل بين عناصر المجموعات ثم أحوط الصور التي يكون بها عدد المجموعتان متساويان:



س٤- أصل بين عناصر المجموعتين ثم أحوط المجموعة التي عناصرها أقل:



س٥- أصل بين عناصر المجموعتين ثم أحوط المجموعة التي عناصرها أكثر:






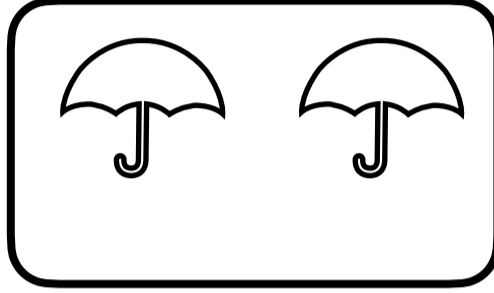
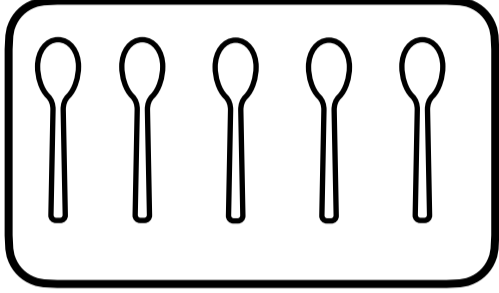
اختبار : مادة الرياضيات
فصل : الأعداد حتى (٥)
للسف : الأول ابتدائي
لعام ١٤٤٤

المملك العربية السعودية
وزارة التعليم
ادارة التعليم بمحافظة
مدرسة :

الف : أولي /

الإسم :

س١- أعد وأكتب العدد المناسب لكل مجموعة :



س٢- اكتب عدد السمكات في الوعاء :



س٣- أرسم كرات ○ بقدر العدد المطلوب :



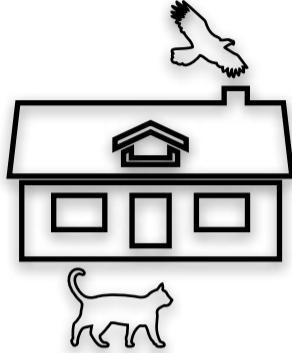
اختبار : مادة الرياضيات
فصل: الموقع والنمط
للمصف: الأول ابتدائي
لعام ١٤٤٤

المملكة العربية السعودية
وزارة التعليم
ادارة التعليم بمحافظة
مدرسة :

الصف : أولى /

الإسم :

أحوظ الحيوان الذي يقع تحت المنزل.




أحوظ البالون الذي يقع فوق الشجرة.




أضع علامة X على المكعب
الموجود في الأسفل




أضع علامة X على السمكة
الموجودة في الأعلى




أضع علامة X على القبعة
الموجودة في الوسط



أحوظ الحيوان الذي يسير بعد الآخرين.



أحوظ السيارة التي تسير قبل الشاحنة.



هي ؟



وحدة النمط في الشكل التالي



أحوظ الشكل التالي في النمط المعطى..



اختبار : مادة الرياضيات
فصل: الأعداد حتى (١٠)
للمنصف: الأول ابتدائي
لعام ١٤٤٤

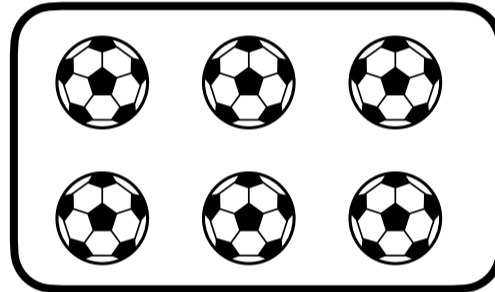

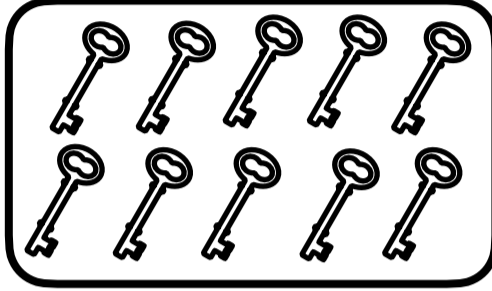



المملكة العربية السعودية
وزارة التعليم
إدارة التعليم بمحافظة
مدرسة :

الصف : أولى /

الإسم :

س١- أعد وأكتب العدد المناسب لكل مجموعة :



س٢- أعد الأشياء في كل مجموعة وأكتب عددها، ثم أصل بخطوط بين عناصر المجموعتين،
وأحوط المجموعة الأكثر :



س٣- أحوط البطة الأولى، وأضع علامة x على البطة الخامسة :

