


بِسْمِ اللَّهِ الرَّحْمَنِ الرَّحِيمِ

الصف : الأول
الحصة :
الاسم :

المادة / رياضيات
التاريخ / / / 14
الموضوع / التهيئة

- لون الشاحنة بالأصفر والكرة بالأزرق والطائر بالأسود
والوردة بالأحمر





بِسْمِ اللَّهِ الرَّحْمَنِ الرَّحِيمِ

الصف : الأول
الحصة :
الاسم :

المادة / رياضيات
التاريخ / / / 14
الموضوع / التصنيف وفق خاصية واحدة

ضع حول الشيء داخل الإطار الذي له نفس الصفة

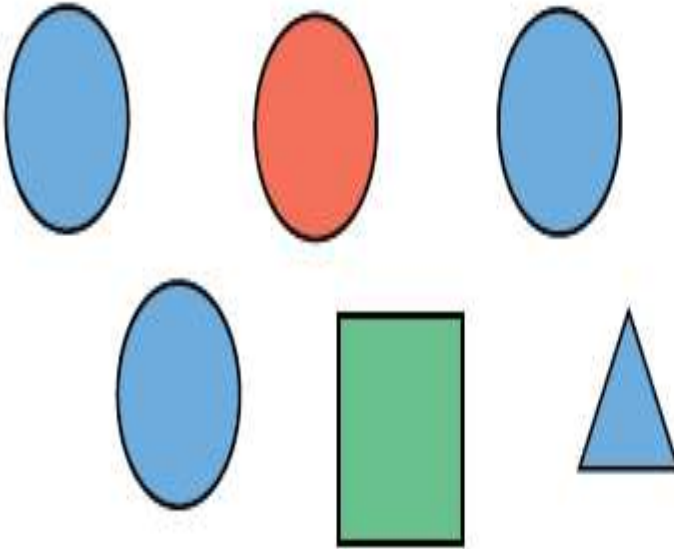
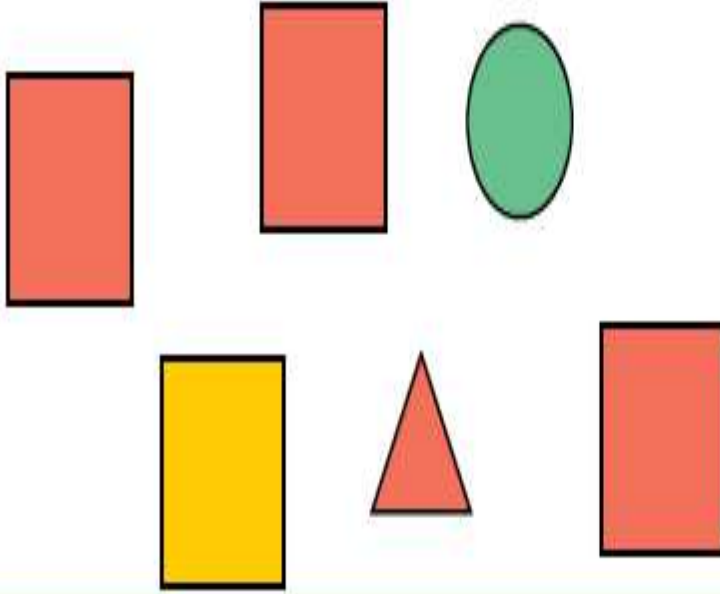


بِسْمِ اللَّهِ الرَّحْمَنِ الرَّحِيمِ

الصف : الأول
الحصة :
الاسم :

المادة / رياضيات
التاريخ / / / 14
الموضوع / التصنيف وفق أكثر من خاصية

ضع ○ حول الشكل المماثل و علامة × حول الشكل المختلف

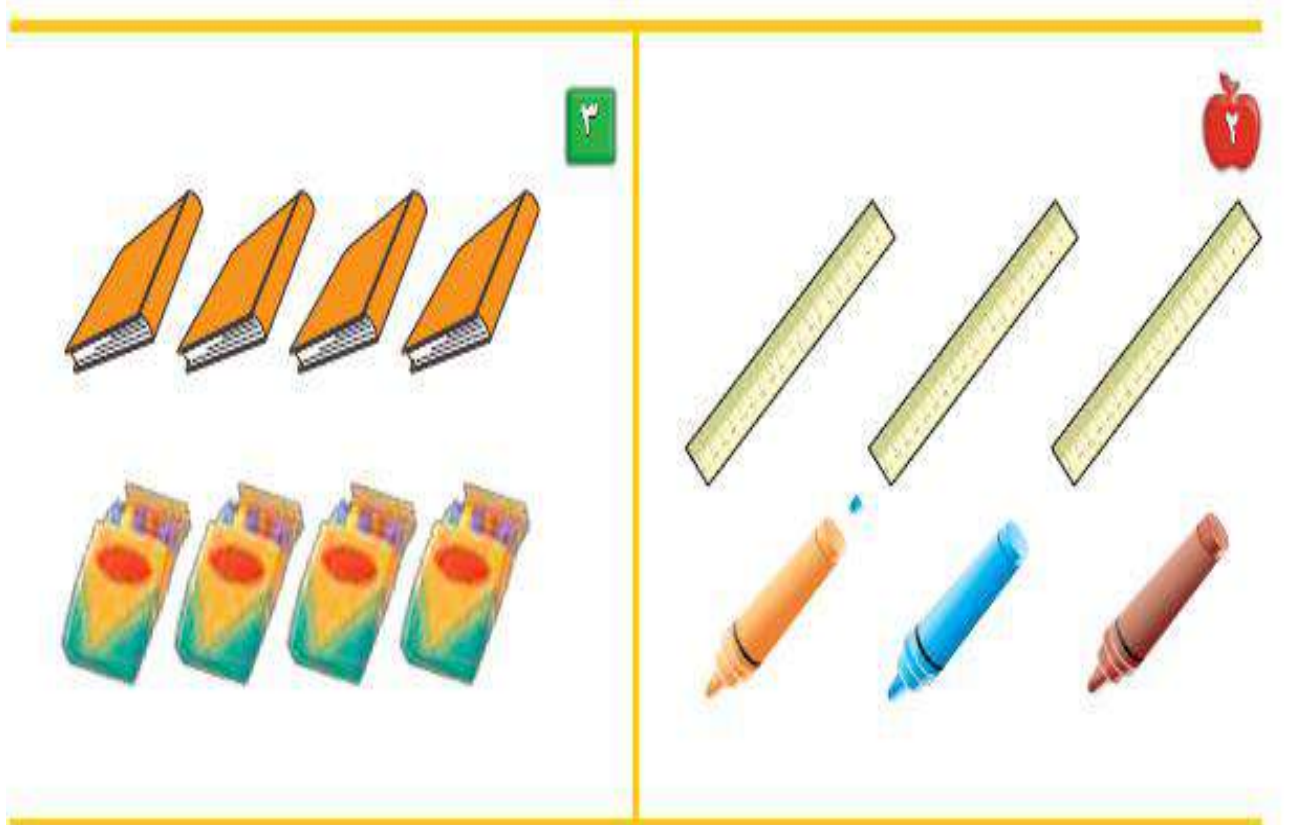



بِسْمِ اللّٰهِ الرَّحْمٰنِ الرَّحِیْمِ

الصف : الأول
الحصة :
الاسم :

المادة / رياضيات
التاريخ / / / 14
الموضوع / التصنيف وفق أكثر من خاصية

صل بخط بين المجموعتين المتقابلتين



بِسْمِ اللَّهِ الرَّحْمَنِ الرَّحِيمِ

الصف : الأول
الحصة :
الاسم :

المادة / رياضيات
التاريخ / / / 14
الموضوع / التصنيف (أكثر من وأقل من)

صل بخط بين المجموعتين وضع حول المجموعة التي عناصرها أكثر



بِسْمِ اللّٰهِ الرَّحْمٰنِ الرَّحِیْمِ

الصف : الأول
الحصة :

الاسم :

المادة / رياضيات

التاريخ / / / 14

الموضوع / الأعداد 1 ، 2 ، 3

عد المربعات ثم لونها



--	--	--



--	--	--



--	--	--



--	--	--



--	--	--

بِسْمِ اللَّهِ الرَّحْمَنِ الرَّحِيمِ

الصف : الأول
الحصة :

الاسم :

المادة / رياضيات

التاريخ / / / 14

الموضوع / قراءة الأعداد (1 ، 2 ، 3)

عد الأشياء وانطق العدد ثم اكتبه ثلاث مرات



واحد



ثلاثة



اثنان



بِسْمِ اللّٰهِ الرَّحْمٰنِ الرَّحِیْمِ

الصف : الأول
الحصة :

الاسم :

المادة / رياضيات

التاريخ / / / 14

الموضوع / العدان 4 ، 5

ارسم 4 تفاحات على الشجرة الأولى و 5 تفاحات على الشجرة الثانية



بِسْمِ اللّٰهِ الرَّحْمٰنِ الرَّحِیْمِ

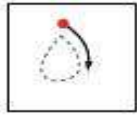
الصف : الأول
الحصة :
الاسم :

المادة / رياضيات
التاريخ / / / 14
الموضوع / قراءة العددين 4 ، 5 وكتابتها

عد الأشياء وانطق العدد ثم اكتب العدد ثلاث مرات



أَرْبَعَةٌ



خَمْسَةٌ



أَرْبَعَةٌ















بِسْمِ اللَّهِ الرَّحْمَنِ الرَّحِيمِ

الصف : الأول
الحصة :
الاسم :

المادة / رياضيات
التاريخ / / / 14
الموضوع / قِرَاءَةُ أَعْدَادِ صِفْرٍ، وَكِتَابَتُهُ

عد الكرات في كل رسمة وعاء ثم قل العدد واكتبه

بِسْمِ اللَّهِ الرَّحْمَنِ الرَّحِيمِ

الصف : الأول
الحصة :
الاسم :

المادة / رياضيات
التاريخ / / / 14
الموضوع / الأعداد 6 ، 7 ، 8

عد الأشياء وقل العدد واستعمل قطع العد الملونة لتمثيل العدد



بِسْمِ اللَّهِ الرَّحْمَنِ الرَّحِيمِ

الصف : الأول
الحصة :


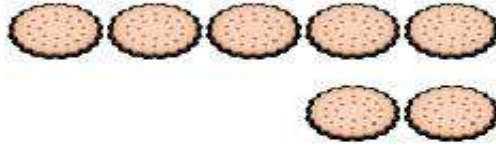
الاسم :

المادة / رياضيات

التاريخ / / / 14

الموضوع / قراءة الأعداد 6 ، 7 ، 8 وكتابتها

عد الأشياء وقل العدد ووضح عددها

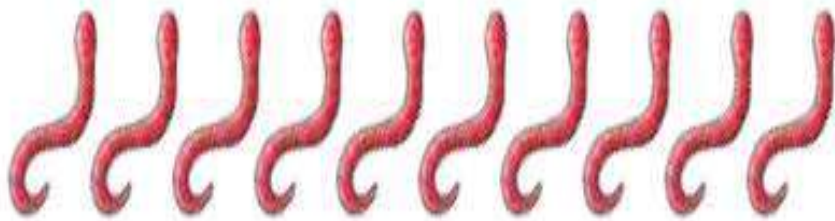
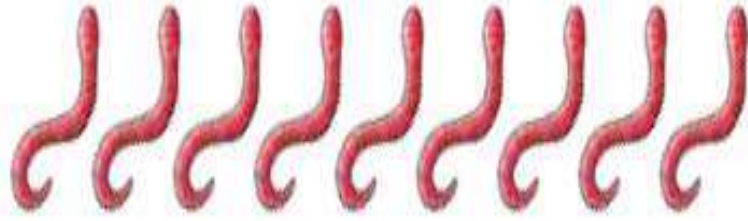


بِسْمِ اللّٰهِ الرَّحْمٰنِ الرَّحِیْمِ

الصف : الأول
الحصّة :
الاسم :

المادة / رياضيات
التاريخ / / / 14
الموضوع / أَعْدَادُ 9 ، 10

عد المجموعات ثم قل عددها ثم حوط المجموعة التي عدد عناصرها 9 باللون الأحمر
والمجموعة التي عدد عناصرها 10 باللون الأزرق



بِسْمِ اللّٰهِ الرَّحْمٰنِ الرَّحِیْمِ

الصف : الأول
الحصة :
الاسم :

المادة / رياضيات
التاريخ / / / 14
الموضوع / قراءة العددين 9 - 10

عد الحيوانات وقل العدد ثم اكتب العدد في المكان المخصص



٣




بِسْمِ اللَّهِ الرَّحْمَنِ الرَّحِيمِ

الصف : الأول
الحصة :
الاسم :

المادة / رياضيات
التاريخ / / / 14
الموضوع / مقارنة الأعداد حتى 10

عد الأشياء في كل مجموعة ثم اكتب عددها وضع × على المجموعة الأقل

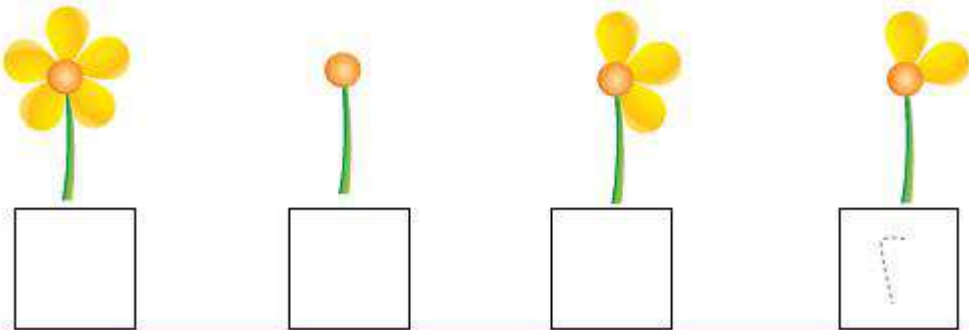
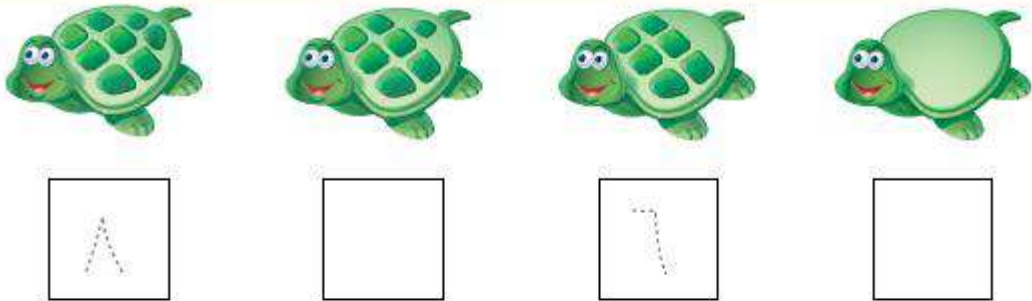
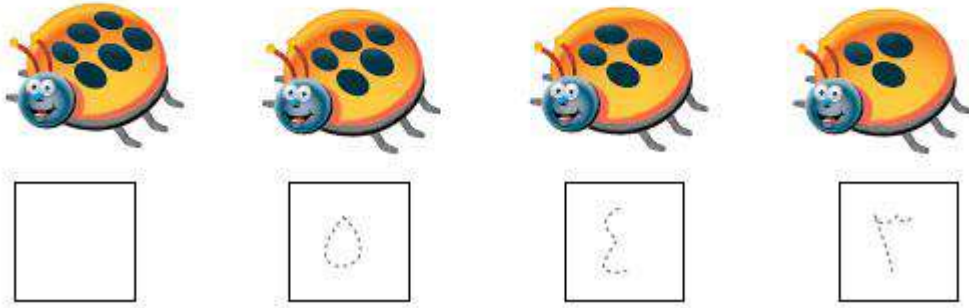
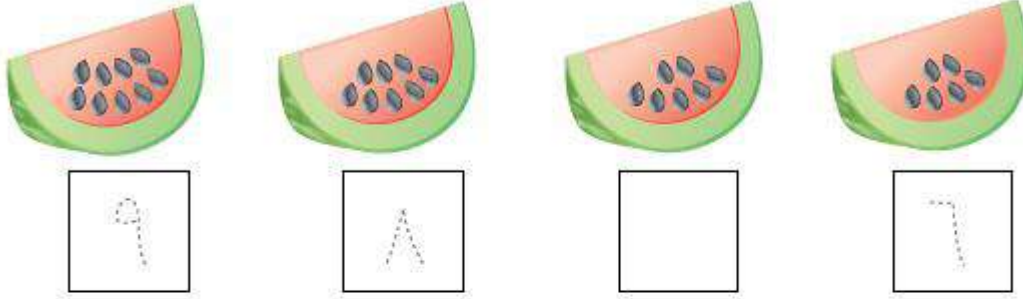


بِسْمِ اللَّهِ الرَّحْمَنِ الرَّحِيمِ

الصف : الأول
الحصة :
الاسم :

المادة / رياضيات
التاريخ / / / 14
الموضوع / ترتيب الأعداد حتى 10

عد الأشياء ثم مرر قلمك على الأعداد المنقطة واكتب الأعداد المفقودة



بِسْمِ اللَّهِ الرَّحْمَنِ الرَّحِيمِ

الصف : الأول
الحصة :
الاسم :

المادة / رياضيات
التاريخ / / / 14
الموضوع / العدد الترتيبي

اذكر ترتيب كل نسر وضع على النسر السادس و على النسر الثالث

