

اختبار الفترة الأولى لمادة العلوم الصف الثاني (الفصل الدراسي الأول) ١٤٤٤ هـ

اسم الطالب /

السؤال الأول

١٠

ضع علامة (√) أمام العبارة الصحيحة وعلامة (X) أمام العبارة الخاطئة

()	البذرة هي الجزء الذي ينمو ويصبح نباتا جديدا	١
()	دورة حياة الفراشة (بيضة- يرقة -عذراء- فراشة صغيرة- فراشة كبيرة)	٢
()	يعتبر الماء من المخلوقات الغير حية	٣
()	دورة الحياة تبين كيف ينمو المخلوق الحي ويعيش ويتكاثر ويموت	٤
()	بعض الحيوانات سميت بالفقاريات لوجود العمود الفقري	٥
()	الزهرة هي التي تكون البذور والثمار في النبات	٦
()	البرمائيات حيوان يعيش في الماء ثم على اليابسة	٧
()	يقوم النبات بصنع غذاءه بنفسه	٨
()	الثدييات تلد وترضع صغارها الحليب ويغطي جسمها الشعر	٩
()	تحتاج المخلوقات الحية الى الماء والهواء والغذاء	١٠

السؤال الثاني

ضع الكلمة المناسبة في الفراغ المناسب فيما يلي؟

(حبوب اللقاح - بيضة - الحراشف - الثمرة - النحل)

١	يغطي جسم الزواحف.....
٢	من الملقحات التي تقوم بنقل حبوب اللقاح
٣	توجد البذرة داخل
٤	تبدأ دورة حياة الخنفساء
٥	هو المسحوق الذي تنتج الازهار

السؤال الثالث

ماهي أجزاء النبات الرئيسية الثلاثة ؟

/١
/٢
/٣

انتهت الاسئلة مع تمنياتي لكم بالتوفيق والنجاح

أوراكان

اختبار مادة العلوم للصف الثاني الابتدائي - منتصف الفصل الدراسي الأول

٥

اكتب كل كلمة مما يأتي في الفراغ المناسب :

(الجبل - الوادي - التلال - السهل)

١ - منطقةٌ مُنْبَسِطَةٌ وَوَاسِعَةٌ (.....)

٢ - منطقةٌ مُرْتَفَعَةٌ جَدًّا مِنَ الْيَابِسَةِ (.....)

٣ - مَنَاطِقٌ مُرْتَفَعَةٌ وَ لَكِنْ أَقْلُ ارْتِفَاعًا مِنَ الْجِبَالِ (.....)

٤ - أَرْضٌ مُنْخَفِضَةٌ بَيْنَ الْجِبَالِ (.....)

٥ - النِّبَاتَاتُ وَ الصُّخُورُ مِنَ الْمَوَارِدِ الطَّبِيعِيَّةِ (.....)

٥

أضع علامة (✓) أو علامة (X) :

١ - تَسْتَطِيعُ الْحَيَوَانَاتُ الشُّرْبَ مِنْ مَاءِ الْبَحْرِ ()

٢ - الدُّبَالُ ضَارٌّ لِلنِّبَاتَاتِ ()

٣ - عِنْدَ النَّظَرِ إِلَى الْأَرْضِ مِنَ الْفَضَاءِ يَبْدُو الْمَاءُ بِاللَّوْنِ الْأَزْرَقِ ()

٤ - يُمَكِّنُ لِلْأَسْمَاكِ أَنْ تَعِيشَ خَارِجَ الْمَاءِ ()

٥ - مِنْ مَصَادِرِ الْمَاءِ الْعَذْبِ الْآبَارُ ()

اختبار مادة العلوم للصف الثاني الابتدائي - الفصل الدراسي الأول - الفترة الأولى

٥

السؤال الأول : أضع علامة (✓) أو علامة (✗) :

- ١/ البذرة هي جزء النبات الذي ينمو و يصير نباتاً جديداً ()
- ٢/ تتكاثر الطيور بالولادة ()
- ٣/ الزواحف تغطي أجسامها الحرشف ()
- ٤/ الضفدع حيوان برمائي ()
- ٥/ الإنسان و الحيوان يتنفسان الأوكسجين ()

٥

السؤال الثاني : أضع دائرة حول الإجابة الصحيحة :

- ١/ من مراحل نمو الفراشة (البذرة - اليرقة)
- ٢/ الجممل من (الثدييات - الزواحف)
- ٣/ تساهم في إنتاج البذور (الجذور - حبوب اللقاح)
- ٤/ يغطي أجسام الطيور (الريش - الصوف)
- ٥/ جزء النبات الموجود تحت التربة (جذور - أوراق)

اختبار مادة العلوم للصف الثاني الابتدائي - الفصل الدراسي الأول - الفترة الأولى

السؤال الأول:

من الخطوات التي يستخدمها العلماء في دراسة العلوم

المهارة	اتقن المعيار ٪١٠٠	اتقن من ٩٠٪ إلى أقل من ١٠٠٪	اتقن من ٨٠٪ إلى أقل من ٩٠٪	لم يتقن أقل من ٨٠٪
تطبيق الطريقة العلمية التي يستخدمها العلماء في دراسة العلوم بصورة مبسطة				



السؤال الثاني: ضع علامة (✓) أو علامة (x):

- ١- النباتات ليست مخلوقات حيه ()
- ٢- من حاجات المخلوقات الحية الهواء ()
- ٣- البذرة: هي جزء النبات الذي ينمو ويصير نباتاً جديداً ()
- ٤- تحتاج النباتات إلى ضوء الشمس والهواء والغذاء و.....

المهارة	اتقن المعيار ٪١٠٠	اتقن من ٩٠٪ إلى أقل من ١٠٠٪	اتقن من ٨٠٪ إلى أقل من ٩٠٪	لم يتقن أقل من ٨٠ %
تفسير اعتبار النباتات مخلوقات حية				
تعداد حاجات المخلوقات الحية				
وصف مبسط للبذرة مع بيان مصدرها				

السؤال الثالث:

صلي الحيوانات الفقارية واللافقارية:



فقارية

لا فقاريه

المهارة	اتقن المعيار ٪١٠٠	اتقن من ٩٠٪ وأقل من ١٠٠٪	اتقن من ٨٠٪ إلى أقل من ٩٠٪	لم يتقن أقل من ٨٠٪
تصنيف الحيوانات والمقارنة بينها تبعا لصفاتهما الجسمية من خلال قراءة الصور				

الاختبار التحريري لمهارات مادة العلوم (١) للصف الثاني الابتدائي للفصل الأول لعام ١٤٤٣-١٤٤٤ هـ

اسم الطالبة: الصف: ٢ /

مستوى أداء الطالبة في المعيار				المعيار	رقم المعيار
متفوق <input type="checkbox"/>	متقدم من ٩٠% <input type="checkbox"/>	متمكن من ٨٠% <input type="checkbox"/>	غير مجتاز <input type="checkbox"/>	تفسير اعتبار النباتات مخلوقات حية	٢
١٠٠% <input type="checkbox"/>	إلى أقل من ١٠٠% <input type="checkbox"/>	إلى أقل من ٩٠% <input type="checkbox"/>	أقل من ٨٠% <input type="checkbox"/>		

(أ) ضعي علامة (√) أمام العبارات الصحيحة وعلامة (X) أمام العبارات الخاطئة :



(١) تعتبر النباتات مخلوقات حية لأنها تنمو وتتنفس وتتكاثر. ()

(٢) غاز تطلقه النباتات عندما تصنع الغذاء الأكسجين. ()

(٣) أجزاء صلبة غير حية من التربة هي حبوب اللقاح. ()

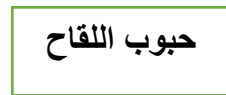
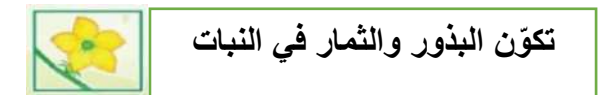
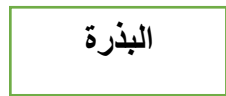
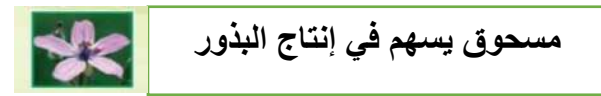
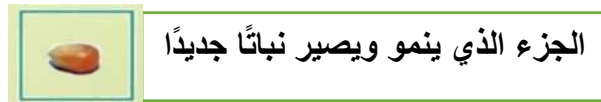
مستوى أداء الطالبة في المعيار				المعيار	رقم المعيار
متفوق <input type="checkbox"/>	متقدم من ٩٠% <input type="checkbox"/>	متمكن من ٨٠% <input type="checkbox"/>	غير مجتاز <input type="checkbox"/>	تعداد حاجات النبات	٣ *
١٠٠% <input type="checkbox"/>	إلى أقل من ١٠٠% <input type="checkbox"/>	إلى أقل من ٩٠% <input type="checkbox"/>	أقل من ٨٠% <input type="checkbox"/>		

(ب) لوني في الرسم أمامك ما تحتاجه المخلوقات الحية:



مستوى أداء الطالبة في المعيار				المعيار	رقم المعيار
متفوق <input type="checkbox"/>	متقدم من ٩٠% <input type="checkbox"/>	متمكن من ٨٠% <input type="checkbox"/>	غير مجتاز <input type="checkbox"/>	وصف مبسط للذرة مع بيان مصدرها	٤
١٠٠% <input type="checkbox"/>	إلى أقل من ١٠٠% <input type="checkbox"/>	إلى أقل من ٩٠% <input type="checkbox"/>	أقل من ٨٠% <input type="checkbox"/>		

(ج) صلي المفردة العلمية بالعبارات المناسبة لها:



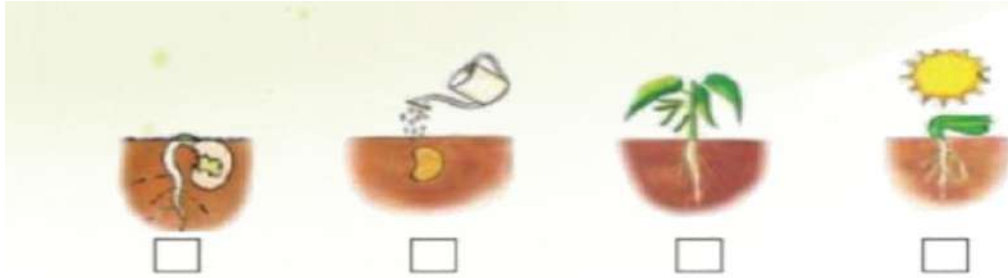
ورقة عمل لمهارات مادة العلوم (١) للصف الثاني الابتدائي للفصل الأول لعام ١٤٤٣-١٤٤٤ هـ

الصف: ٢ /

اسم الطالبة:

مستوى أداء الطالبة في المعيار				المعيار	رقم المعيار
متفوق	متقدم من ٩٠٪	متمكن من ٨٠٪	غير مجتاز		
١٠٠٪	إلى أقل من ١٠٠٪	إلى أقل من ٩٠٪	أقل من ٨٠٪	ترتيب مجموعة صور لمراحل دورة حياة نبات ما	* ٥

(د) رتبي الصور التالية التي تظهر دورة حياة نمو نبات الفاصولياء مستخدمة الأرقام من ١ - ٤



تمنياتي لكم بالتوفيق والنجاح
معلمة المادة / نجلاء الزهراني

ورقة عمل لمهارات مادة العلوم (١) للصف الثاني الابتدائي للفصل الأول لعام ١٤٤٣-١٤٤٤ هـ

الصف: ٢ /

اسم الطالبة:

مستوى أداء الطالبة في المعيار				المعيار	رقم المعيار
غير مجتاز	متمكن من ٨٠%	متقدم من ٩٠%	متفوق	تفسير اعتبار النباتات مخلوقات حية	٢
أقل من ٨٠%	إلى أقل من ٩٠%	إلى أقل من ١٠٠%	١٠٠%		

(أ) ضعي علامة (✓) أمام العبارات الصحيحة وعلامة (X) أمام العبارات الخاطئة :



(١) تعتبر النباتات مخلوقات حية لأنها تنمو وتتنفس وتتكاثر. (✓)

(٢) غاز تطلقه النباتات عندما تصنع الغذاء الأكسجين. (✓)

(٣) أجزاء صلبة غير حية من التربة هي حبوب اللقاح. (X)

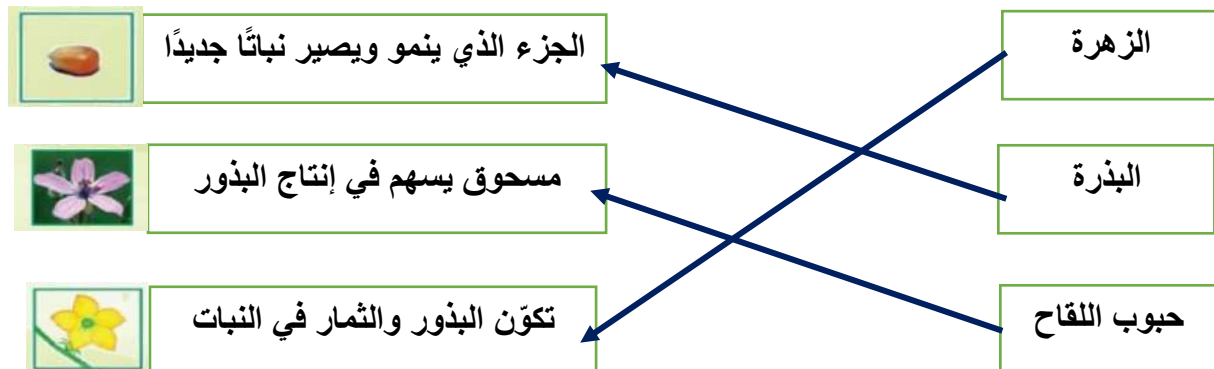
مستوى أداء الطالبة في المعيار				المعيار	رقم المعيار
غير مجتاز	متمكن من ٨٠%	متقدم من ٩٠%	متفوق	تعداد حاجات النبات	٣ *
أقل من ٨٠%	إلى أقل من ٩٠%	إلى أقل من ١٠٠%	١٠٠%		

(ب) لوني في الرسم أمامك ما تحتاجه المخلوقات الحية:



مستوى أداء الطالبة في المعيار				المعيار	رقم المعيار
غير مجتاز	متمكن من ٨٠%	متقدم من ٩٠%	متفوق	وصف مبسط للذرة مع بيان مصدرها	٤
أقل من ٨٠%	إلى أقل من ٩٠%	إلى أقل من ١٠٠%	١٠٠%		

(ج) صلي المفردة العلمية بالعبارات المناسبة لها:

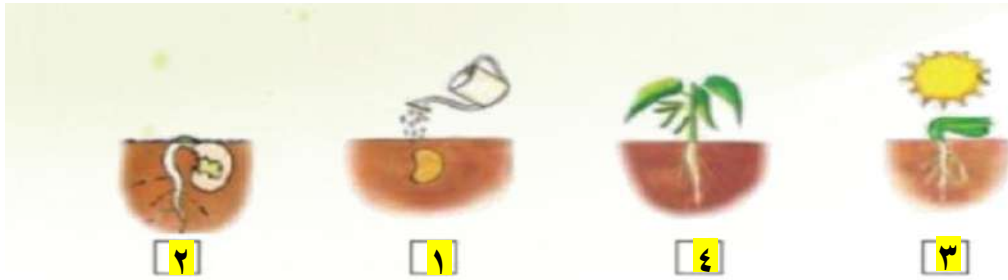


ورقة عمل لمهارات مادة العلوم (١) للصف الثاني الابتدائي للفصل الأول لعام ١٤٤٣-١٤٤٤ هـ

اسم الطالبة: الصف: ٢ /

مستوى أداء الطالبة في المعيار				المعيار	رقم المعيار
⊠ غير مجتاز أقل من ٨٠%	⊠ متمكن من ٨٠%	⊠ متقدم من ٩٠%	⊠ متفوق ١٠٠%	ترتيب مجموعة صور لمراحل دورة حياة نبات ما	٥ *

(د) رتب الصور التالية التي تظهر دورة حياة نمو نبات الفاصولياء مستخدمة الأرقام من ١ - ٤



تمنياتي لكم بالتوفيق والنجاح
معلمة المادة / نجلاء الزهراني