

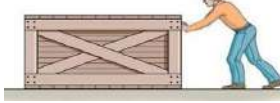
التاريخ:	 وزارة التعليم Ministry of Education	المملكة العربية السعودية
المادة: العلوم		وزارة التعليم
الصف: الأول الابتدائي		الإدارة العامة للتعليم بمنطقة
الفصل /		اسم الطالب/ة

تقويم ختامي لمهارات علوم الصف الأول – (الفصل الدراسي الثالث) عام ١٤٤٤

السؤال الأول: نكتب (الصيف_ الشتاء_ الربيع_ الخريف) تحت صورة كل فصل:



السؤال الثاني: نصل كل كلمة بالصورة المناسبة:



غائم

ضوء

حرارة

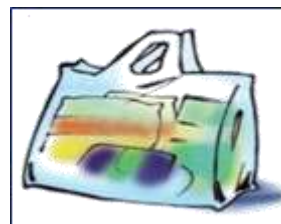

صوت

دفع

السؤال الثالث: نحدد موقع الأشياء ب (تحت _ يمين - فوق _ خلف) تحت كل صورة:



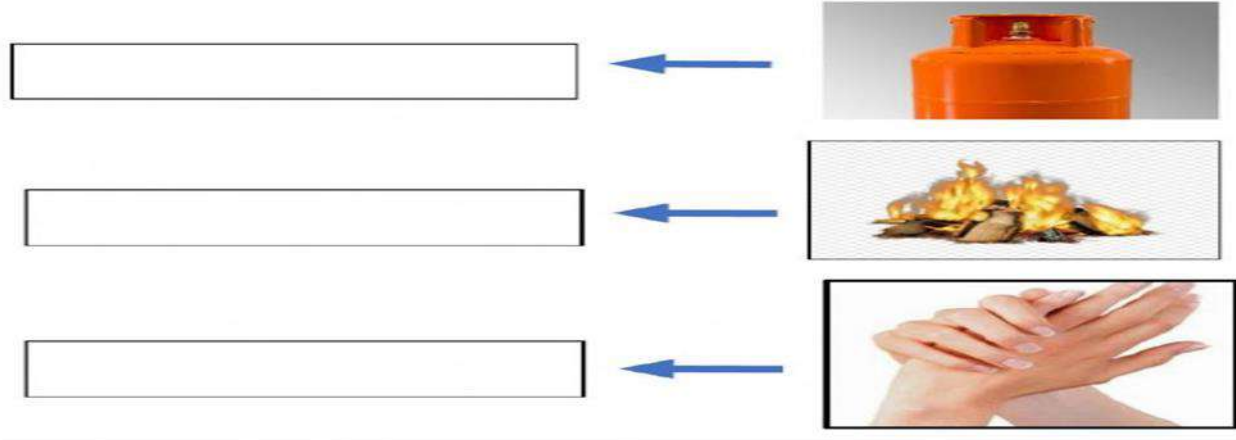
السؤال الرابع: * نضع إشارة صح تحت الجسم الذي يسمح بمرور الضوء من خلاله:




ب/ ايهما نلبس في فصل الشتاء؟



السؤال الخامس: نكتب مصادر الحرارة بجانب كل صورة (الاحتكاك * احتراق الخشب * الغاز)



السؤال السادس: ١- أيها يصدر صوت:



٢ / ما مصادر الضوء الطبيعية على الأرض:



السؤال السابع: ١- نصف نوع الحركة في الصور التالية (دورانية * مستقيم * متعرج):



.....


ب- نصل كل مفردة بمعناها

مقدار البعد بين جسمين

السرعة

وصف حركة الجسم سريعة او بطيئة

المسافة



بالتوفيق يا صغاري

سكره الشمري

التاريخ:	 وزارة التعليم Ministry of Education	المملكة العربية السعودية
المادة: العلوم		وزارة التعليم
الصف: الأول الابتدائي		الإدارة العامة للتعليم بمنطقة
اسم الطالب/ة.....		الفصل/.....

تقويم ختامي لمهارات علوم الصف الأول - (الفصل الدراسي الثالث) عام ١٤٤٤

السؤال الأول: نكتب (الصيف - الشتاء - الربيع - الخريف) تحت صورة كل فصل:



الخريف



الربيع




الشتاء



الصيف

السؤال الثاني: نصل كل كلمة بالصورة المناسبة:



السؤال الثالث: نحدد موقع الأشياء ب (تحت - يمين - فوق - خلف) تحت كل صورة:



فوق



تحت

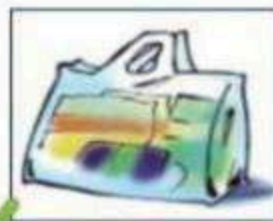


يمين



خلف

السؤال الرابع: * نضع إشارة **صح** تحت الجسم الذي يسمح بمرور الضوء من خلاله :

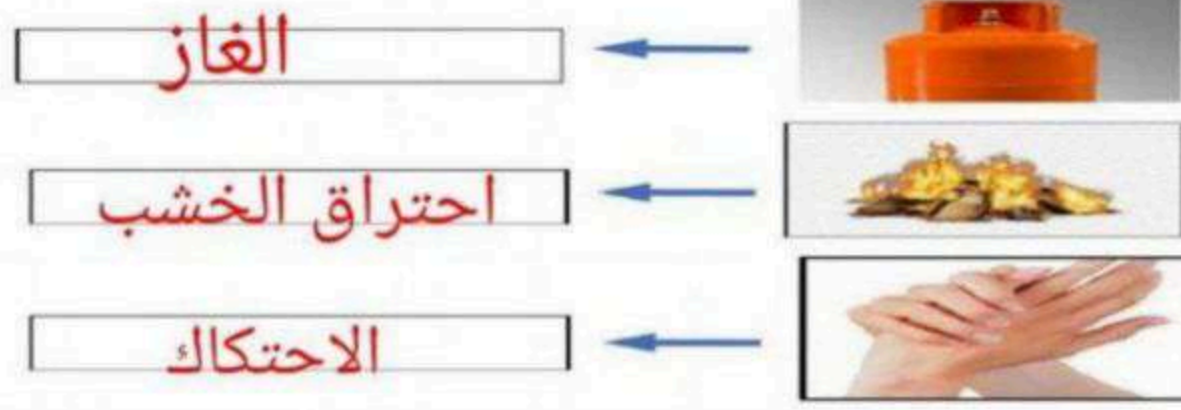


ب/ ايهما نلبس في فصل الشتاء؟




غيب عطاء مة

السؤال الخامس: نكتب مصادر الحرارة بجانب كل صورة (الاحتكاك * احتراق الخشب * الغاز)



السؤال السادس: ١ - أيهما يصدر صوت:



٢ / ما مصادر الضوء الطبيعية على الأرض:



السؤال السابع: ١ - نصف نوع الحركة في الصور التالية (دورانية * مستقيم * متعرج):



ب - نصل كل مفردة بمعناها



بالتوفيق يا صغاري

سكره الشمري

تم الحل بواسطة:

